

臨時休業中の学習課題（豊岡小：1年生）

今回の学習課題は次の登校日に提出してください。

次の登校日は、次のとおりです。

5月7日（木）・・・天北・天南A・天南B・萩北・萩中A・萩中B・萩南・膳棚A・膳棚B

5月8日（金）・・・内方A・内方B・石田・洲山・新瑞

★国語

- 「えがおぷりんと」3まいをやりましょう。（両面）
- 「ヤルッキーのひらがな・すうじ」P.1～9をやりましょう。
- 「しょしゃノート」P2.～5をやりましょう。
- 画用紙「はじめて かいた なまえ」用紙をやりましょう。
（えんぴつの形のもの）

★算数

- 「えがおぷりんと」5まいをやりましょう。（両面）
- 「ヤルッキーのひらがな・すうじ」P36.～40をやりましょう。
- 「けいさんドリル」2～11と、12（上半分まで）をやりましょう。

★こころとからだのチェックリストに取り組みましょう。

【5月の集金について】

給食費	4,400円
ヤルッキーのひらがな・すうじ	280円
くりかえしけいさんドリル	280円
しょしゃノート	320円
くりかえしかんじドリル	280円
歌はともだち	430円
うきうきあさがお4本組支柱付	830円
提示用連結発表ホルダー	160円
道徳ノート	150円
合計	7,130円

引き落とし日

1回目・・・4月28日（火）

2回目・・・5月7日（木）

残高をお確かめください。

えがお　ぷりんと　しぐら①　がつ　にち

おはなし　たくさん　読みたいな

なまえ

(めあて)　ほんに　したしみましよう

☆きょうかじよ　12ぺえじを　ひらきましよう。
☆おはなしをよんでもらっていますね。きょうかじよの　さしえをみて、
よんだことがあるえほんは　ありますか。よんだことがある　えほんに
○をつけましよう。

「ぐりとぐら」　　　　　「わたしのわんぴいす」

「どろんこはりい」

☆えほんを　じぶんでよんだり、おうちのひとによんでもらったりして、
たのしかったことや　おもしろかったことを　せんせいに　おはなししま
しよう。

せんせい、あのね、わたしがすきなほんの
なまえは です。

が、

おもしろかったです。



(ぷりかえり) おはなしをたのしむことができましたか。

とても　たのしかった 　　まあまあ　たのしかった 　　あまり　たのしくなかった

えがお ぷりんとういっし② がつ にち

しえのおおきさをどれくらい (なまえ)

(めあて) しえのおおきさをかんがえていみましょう。

☆ きょうかじの 14・15 ページをみて どんなおはなしをしているのか おうちのひとにつたえましょう。

1 がっしらの ちうかがあるいているつもりで しえのおおきさをかんがえて おはなしをしてみましょう。


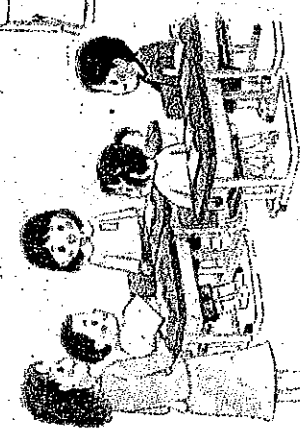


2 となりにすわっている ともだちに おはなしをするときはどのくらいの しえのおおきかな。 しえのおおきさをかんがえて おはなしをしてみましょう。

3 きょうしつで はっぴょうするときに しえのおおきさをかんがえて 「はい。」といつてみましょう。

4 とおくのともだちを よんでおの しえのおおきさをかんがえて 「やっほー。」とよんでみましょう。

(やりがえり) しえのおおきさをかんがえて おはなしするんじが じかたしたが、○をつけましょう。

(よんでおた じかた あまりじかたがった じかたがった)



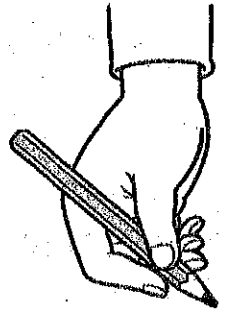
かいて みよう

なまえ

めあて うれしい えんぴつのもちかた、うれしい
しせいに きをつけて せんをなぞったり もじをかいたり
しましょう。

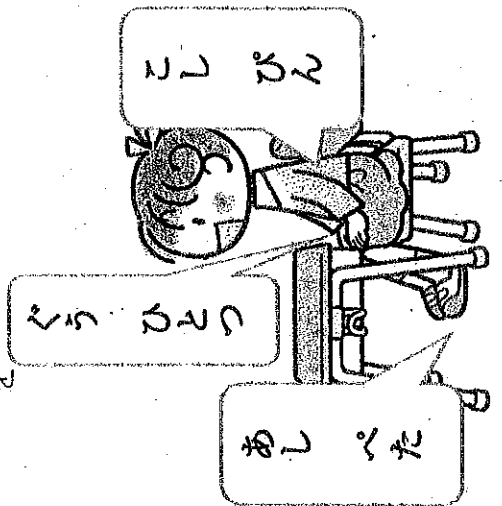
☆えんぴつのもちかたを たしがめましょう。

- ①えんぴつは ななめになつて いますか。
 - ②ひとさしゆびと おやゆびは たまごのかたちになつて いますか。
 - ③えんぴつは けずったすぐうえの あたりを もつて いますか。
- おうちのひとに みてもらい できたら ○を かいて もらいましょう。



☆ただしい しせいで すわってみましょう。

- ①あしのうらが ゆかについで いますか。
 - ②おなかと せなかが ぐう ひとつぶん あいて いますか。
 - ③こしは びんと していますか。
- おうちのひとに みてもらい できたら ○を かいてもらいましょう。



☆はじめてかいたなまえ(別紙 画用紙)に、ただしいしせいで なまえを えんぴつで かきましょう。それからフエルトペン(太)で なぞりましょう。なまえが かくれないように くうびいで ていねいに いろを ぬりましょう。

(ぶりがえり) なにが わかりましたか。おはなししましょう。

ただしい えんぴつのもちかたが わかったよ。




かいて みよう

おはな

(ああん) ただしん えんぴつのもちかた、ただしん
しせいに 巻をつけて、ひらがなをよんだり かいたり
しましょう。

☆やるつきの ひらがな・まじりのくえしからくえしまで かきましょ
う。

☆つきの ひらがなを よみましょう。



☆「く」「つ」「り」「ん」「ご」「の」のまじりをかいて、そのほかの
ことばを かいてみましょう。

○ くつ、くり、く

○ いし、

い	し		

○ つり、

(ふりがえり) ひらがなを よんだり かいたりして どんなことば
おもいましたか。おはなししてみましょ。



えがが ちのちの じいじ⑤ がの じい

じいじの えがが ちのちの じいじ (えがが)

(えがが) じいじの えがが ちのちの じいじの えがが
ちのちの じいじ。

☆ ちのちの じいじの 20・21 ぐんぐん じいじの じいじ。

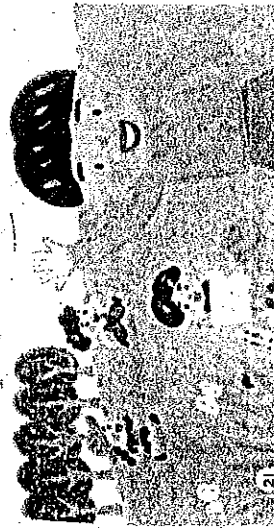
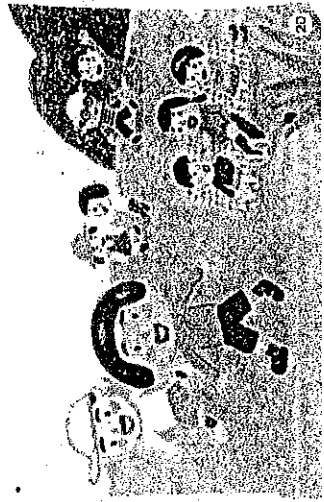
1 ちのちの じいじの 20・21 ぐんぐん
ちのちの じいじの じいじに じいじ
だして ちのちの じいじ。

2 2 かいめは じいじに じいじ
うしにあわせて ちのちの じいじ。

3 3 かいめは くちのかたちを ちのち
ちのちの じいじの じいじ。

4 ちのちの じいじの じいじの じいじ
じいじの じいじの じいじ。

あ (あ) い (い) う (う) え (え) お (お)



(ちのちの) じいじの えがが ちのちの じいじの えがが
ちのちの じいじの じいじの じいじの じいじ。

(ちのちの じいじの じいじの じいじの じいじの じいじの じいじの じいじの)

えがお ぷりんと ひんじ⑥ がの にあ

あ い う え お

なまえ

(めあて) ひらがなを ひともじずつ しびょうしにあわせて
しよんだり ゆつくり がいたりしよう。

☆きょうかしの 22ページと23ページに 書いてある ひらがなを
びょうしにあわせて よみましょう。


☆やるっきの ひらがな・すうじ 7ページから 9ページまで かきま
しょう。

☆つきに書いてある えをみて えがあらわしている ものを おはなし
しましょう。


あ



い




う



え



お



(おりがえり) なにが わかったのかを おはなししてみよう。



えがおばりんとくさんすう1ねん①

かずとすうじ 10までの かず



きょうかしよ P12・13

がつ にち () なまえ

めあて 6よりおおきなかずを あらわそう。

1 したのすうじを よみましょう。

ろく しち (なな) はち く (きゅう) じゅう
 6 7 8 9 10

2 つぎのすうじを うえから なぞりましょう。

6 7 8 9 10

6 7 8 9 10

3 すうじのかずだけ しかくのなかに ○をかきましょう。

6	7 ここから○をかこう!!	○ → ○ →			
7		○			
8		○			
9					
10					

4 ヤルッキーのすうじの 40・39ぺえじをやしましょう。(○つけは せんせいがします。)

ふりかえり 1から10までいえるようになったかな。



がつ 　　にち(　　) なまえ

めあて 10までのかすを ただしくかこう。

1 したのすうじを よみましょう。

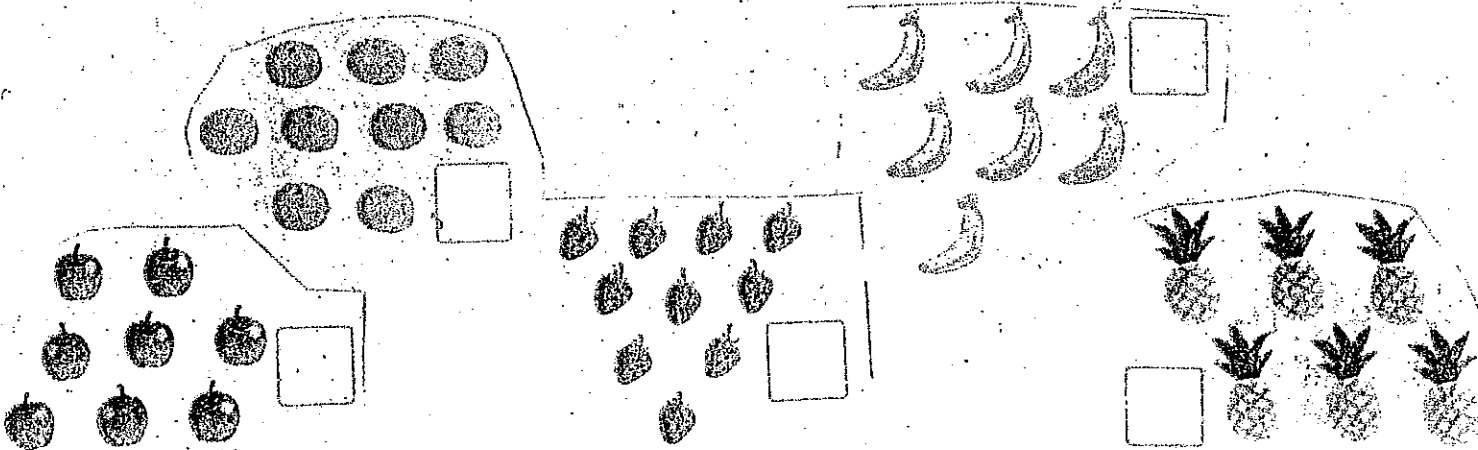
6 7 8 9 10

2 つぎのすうじを うえから なぞりましょう。きょうかしょ14ぺえじもたどりましょう。

6	7	8	9	10

3 きょうかしょ14ぺえじのべんぎんのかすを かぞえましょう。

4 きょうかしょ15ぺえじのくだものは いくつあるかな。



5 みのまわりのものをかぞえましょう。ヤルッキーのすうじの 38・37・36ぺえじをやしましょう。
(0つけは、せんせいがします。)

ふりかえり なにかわかったかおはなししましょう。



かずとすうじ ならべよう

がつ _____ にち (_____) なまえ _____

めあて 10 までのかずの ならべかたをおぼえよう。

- 1 きょうかしよ 16 ペエジのぶろっくをかぞえて ならべかたをおぼえよう。
- 2 しかくのなかのかずだけ いろをぬりましょう。

6

8

- 3 かずをかぞえて すうじでかきましょう。

- 4 けいさんドリル 2 3 4 5 まで やりましょう。○もていねいにぬりましょう。

(○つけはせんせいがします。)

ふりかえり なにがわかったのかおぼえなしてしましよう。

えがおびんとくさんすう1ねん④

かずとすうじ いってみよう




きょうかしょ P17

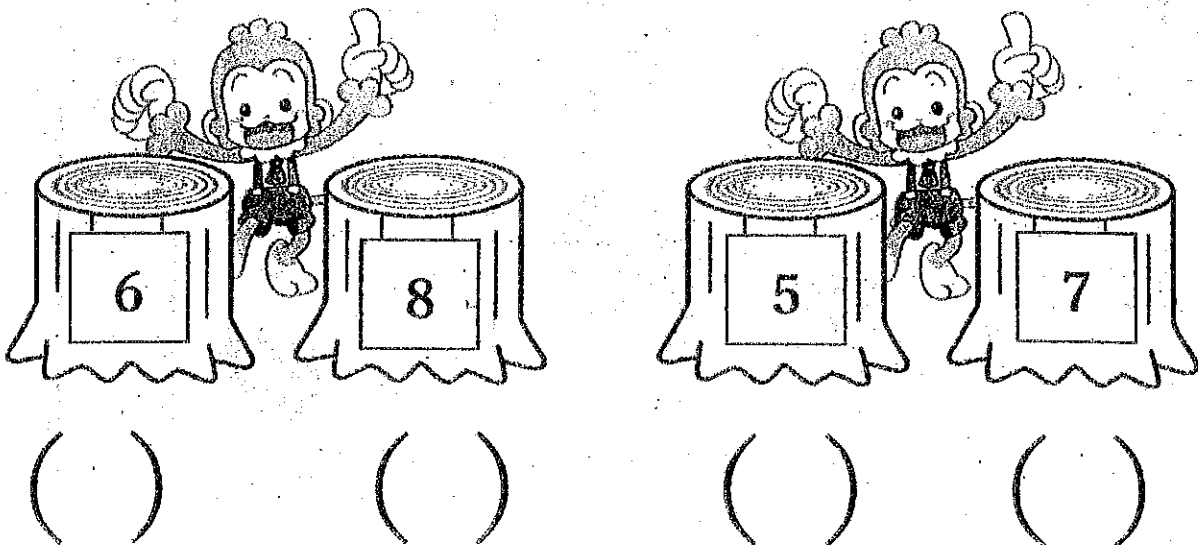
がつ にち () なまえ

めあて 10までのかずをじゅんにかぞえてくらべよう

1 □にはいるかずをかきましょう。



2 かずのおおきいほうに ○をつけましょう。



4 けいさんドリル 6 7 8 9 やりましょう。○もていねいにぬりましょう。

(○つけはせんせいがします。)

ふりかえり なにがわかったのかおはなししましょう。


えがおぴりんとくさんすう1ねん⑤

なんばんめ

きょうかしょ P18

がつ 日にち () なまえ

- 1 きょうかしょ 18、19ぺえじの えをみましょう。
どうぶつたちは なにをしていますか。



- 2 かけっこのじゅんばんはどうなったのでしょうか。うえの、はたがならんでいるところをみましょう。
きりんは2ばんめにつきました。ほかのどうぶつはなんばんめにつきましたか。

めあて なんばんめ かを かんがえよう




いぬは □ばんめです。

...は□ばん
めです。

きつねは □ばんめです。


- 3 はたの えを みましょう。ひだりとみぎ のぼしよはいいですね。

☆  は みぎからなんばんめですか。

からすがとまっています。

ひだりから□ばんめです。


うえとしたのぼしよはいいですね。

☆  は うえからなんばんめですか。

うえから□ばんめです。

まえから□ば
んめです。

たぬきくんがこうしんしています。まえとうしろのぼしよはいいですね。

☆  は まえからなんばんめですか。

- 4 けいさんドリル 10と 11をやしましょう。(○つけは せんせいがします。)

ふりかえり なにが わかったのかを おはなししましょう。

えがおぷりんと くさんすう1ねん ⑥

なんばんめ②

きょうかしよ P20

がつ _____ にち () なまえ _____

- 1 きょうかしよ 20ぺえじの えをみましよう。
せんせいのことばに ちゅういして はっきりとしたこえで よみましよう。
たっている この えをよ〜くみてください。


まえから 4ばんめ!
まえから 4にん!



めあて だれが たてば よいかを かんがえよう

まえから 4ばんめ とまえから 4にん はどうちがいますか。はなしましよう。

まえから 4ばんめ は、□にん、
まえから 4にん は、□にんたちました。



- 2 いま、はなしたことにきをつけて、きょうかしよの20ぺえじのもんだいを
あかいろ えんぴつで ぬりましよう。(このぷりんとにぬりましよう。)

まえから
5ばんめ

まえから
5だい

うしろから
3ばんめ

うしろから
4わ

- 3 えがおぷりんと⑦ ⑧ をやりましよう。(○つけは せんせいがします。)

ふりかえり なにが わかったのかを おはなしましよう。




えがおぷりんとくさんずう1ねん⑦

なんばんめ②

きょうかしよP19

がつ _____ にち () なまえ _____


● いろをぬりましょう。





① まえから 3ばんめの こどもの ぼうし


② まえから 3にんの こどもの ふく

● なんばんめですか。



③  は したから ばんめです。

④  は したから ばんめです。

⑤  は うえから ばんめです。

えがおぷりんとくさんすう1ねん⑧

なんばんめ②


きょうかしょ P19

がつ にち () なまえ

● いろをぬりましょう。

① みぎから 5ばんめ


ひだり



みぎ

② みぎから 5ひき

ひだり




みぎ


● なんばんめですか。


まへ



うしろ

③  は まえから ばんめです。

④  は うしろから ばんめです。

⑤  は うしろから ばんめです。

えがおぴりとくさんすう1ねん ⑨

なんばんめ③

きょうかしょ P2 1

がっ にち () なまえ

1 きょうかしょ 21ぺえじの うえの えをみましょう。

どうぶつがよこにならんでいますね。ねこはなんばんめですか。

5ばんめ!
あれ、4ばんめ?



めあて なんばんめかを わかるようにいしましょう。

2 ☆どうして5ばんめっておもいましたか。どちらからかぞえましたか。

☆どうして4ばんめっていいましたか。

ひだりからかぞえました。
みぎからかぞえました。



どこからかぞえたかをいうことがたいせつです。

☆では、ねこのいちは なんと いえばよいのでしょうか。

ひだりから 5ばんめ。
みぎから 4ばんめです。

2つのいいかたがあるのですね。

☆ぞうの いちは なんと いえばよいのでしょうか。

☆らいおんの いちは なんと いえばよいのでしょうか。

☆りすの いちは なんと いえばよいのでしょうか。

ふりかえり なにが わかったのかを おはなししましょう。



えがおびんとくさんすう1ねん ⑩

いくつと いくつ①

きょうかしょ P22,23

がつ にち () なまえ

1 きょうかしょ 22 ページの えをみましょう。

たのしそうに ひとつとりげえむをしていますね。いすのかずは いくつですか。

あかと あおのこが なんにん すわれたのかな。

6です。



めあて 6の いくつといくつを しらべましょう。


2 きょうかしょの 23 ページの したのえを みましょう。すうずぶろっくの かずを よくみて、6の いくつといくつをしらべましょう。(すうじをかきましょう。)

すうずぶろっく

	6	<p>6は 1と5に わけられます。</p>
	1と5	
	と	
	と	
	と	
	と	

3 おおきなこえで いいましょう。6は 1と?

- 5
- 2と ...
- 3と ...
- 4と ...
- 5と ...



4 5つの いくつといくつが あるのですね。

☆けいさんどりの 12 の うえの はんぶんを やりましょう。(まるつけはせんせいがします。)

ふりかえり なにが わかったのかを おはなししましょう。

