

組 番 名前

都道府県名

都道府県の位置（色をぬろう）

北海道

都道府県庁所在地

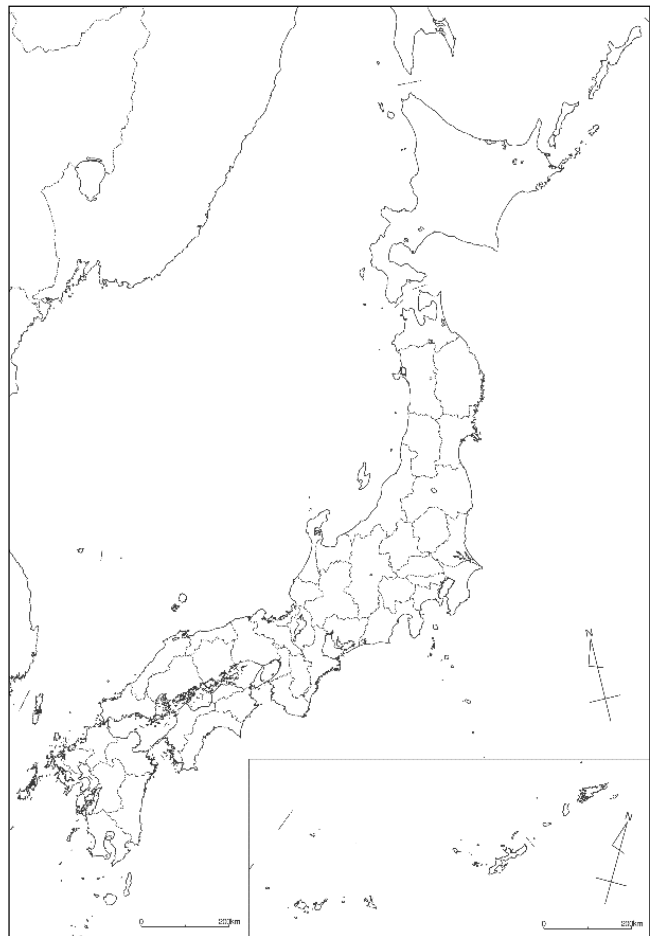
札幌市

調べる都道府県のデータ  
（人口・花・木・鳥など）

農産物

日本一のもの

肉牛の生産量



テーマを決めて、都道府県の特徴を調べよう。（地形・産業・文化・歴史・特産物など）

広い場所を活用して、牛やぶたなどの畜産がさかんである。  
面積が日本で、農業生産額もとても高い。

キャッチフレーズをつくってみよう。

北海道 でっかいところで 日本一

1 教科書p8を見て、六つの大陸と三つの海洋の名前を調べましょう。

○ 六つの大陸の名前

ユーラシア大陸	アフリカ大陸	北アメリカ大陸
南アメリカ大陸	オーストラリア大陸	南極大陸

○ 三つの海洋の名前

太平洋	インド洋	大西洋
-----	------	-----

2 六つの大陸や三つの海洋と、日本の位置関係を説明しましょう。

(例：日本はユーラシア大陸の東にある。)

日本はユーラシア大陸の東にあって、太平洋の西にあります。

日本はオーストラリア大陸の北にあって、ユーラシア大陸と北アメリカ大陸の間にある。

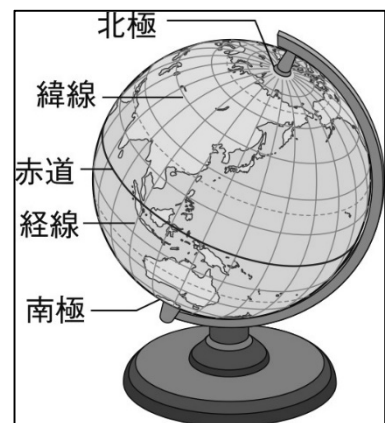
3 右の地球儀を見て、たてと横の線の名前を調べましょう。

○ たての線

経線

○ 横の線

緯線



4 教科書p8～p9を見て、興味をもったり調べたりしたいことをまとめましょう。

日本のほかにどのような国々があるのか調べてみたい。  
日本と同じぐらいの大きさの国を調べてみたい。

組 番 名前

①国の名前と、知っていること、調べたことをまとめましょう。②地図帳で国の位置を調べて、線でむすぼう。

国名 ロシア  
ポルシチ  
マトリョーシカ

国名 アメリカ合衆国  
グランドキャニオンが  
ある

国名 中華人民共和国  
人口が世界一多い

国名 ハングラデシュ  
国旗が日本に似ている

国名 オランダ  
国土の4分の1が海面下

国名 イタリア  
首都はローマ

国名 エジプト  
アラビア語

国名 オーストラリア  
世界一長い直線区間の  
鉄道がある。

国名 ニュージーランド  
国技がラグビー  
国鳥はキーウィ

国名 ブラジル  
リオのカーニバル  
アマゾン川がある

1 教科書 p12~p13  
を見て、日本の東西南  
北のはしにある島の名  
前を調べましょう。

○ 東のはしにある島

**南鳥島**

○ 西のはしにある島

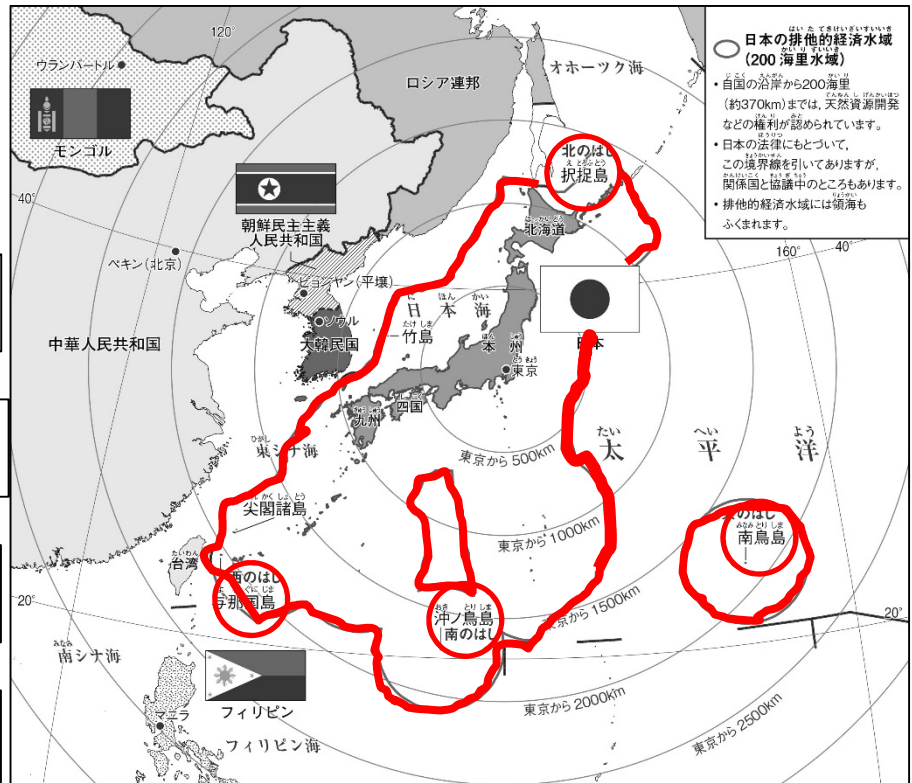
**与那国島**

○ 南のはしにある島

**沖ノ鳥島**

○ 北のはしにある島

**択捉島**



2 1で調べた島を、地図上で印 (○) をつけましょう。

3 日本は四つの大きな島でなり立っています。その四つの島の名前を調べましょう。

**北海道**

**本州**

**四国**

**九州**

4 日本のまわりにある海の名前を調べましょう。

**オホーツク海、日本海、太平洋、東シナ海**

5 日本の排他的経済水域 (200海里水域) を赤色で示しましょう。

6 日本のまわりにある国を調べましょう。  
(できるだけたくさん調べましょう。)

**大韓民国、朝鮮民主主義人民共和国、中華人民共和国、ロシア連邦など**

- 1 教科書 p 1 4～p 1 5 を見て、領土の意味を調べましょう。

その国のもち陸地と、陸地に囲まれた湖や川などを合わせて領土という。

- 2 北方領土について調べたことをまとめましょう。

歯舞群島、色丹島、国後島、択捉島は日本固有の領土である。  
ロシアが不法に占拠している。日本政府はこれらの島を返すようにもとめている。

- 3 竹島について調べたことをまとめましょう。

日本固有の領土である。  
韓国が不法に占領している。

- 4 尖閣諸島について調べたことをまとめましょう。

日本が有効に支配する固有の領土である。中国がその領有を主張しているが、領土問題は存在しない。

- 5 北方領土、竹島、尖閣諸島の位置を地図帳で確認しましょう。

- 6 教科書 p 1 5 の表を参考に、日本の国土の特色についてまとめましょう。

日本は、ユーラシア大陸の東、太平洋の西にある。  
日本は、北半球に位置する。アメリカ合衆国やフランスなどと同じ緯度にある。  
オーストラリアと同じくらいの経度にある。  
日本は、海に囲まれ、たくさんの島々からなり立っている。  
広い領海をもっている。

組 番 名前

○ 次の表にしめた山地、平野、川などの場所を、下の白地図に書きこみましょう。

- |       |       |       |        |       |
|-------|-------|-------|--------|-------|
| ・日高山脈 | ・奥羽山脈 | ・北上高地 | ・阿武隈高地 | ・関東山地 |
| ・赤石山脈 | ・飛騨山脈 | ・木曾山脈 | ・紀伊山地  | ・中国山地 |
| ・四国山地 | ・九州山地 | ・根釧台地 | ・十勝平野  | ・石狩平野 |
| ・越後平野 | ・関東平野 | ・濃尾平野 | ・大阪平野  | ・筑紫平野 |
| ・宮崎平野 | ・十勝川  | ・石狩川  | ・北上川   | ・最上川  |
| ・信濃川  | ・利根川  | ・天竜川  | ・木曾川   | ・淀川   |
| ・吉野川  | ・四万十川 | ・筑後川  | ・琵琶湖   |       |

・解答は教科書p19・20や  
地図帳で確認する。

