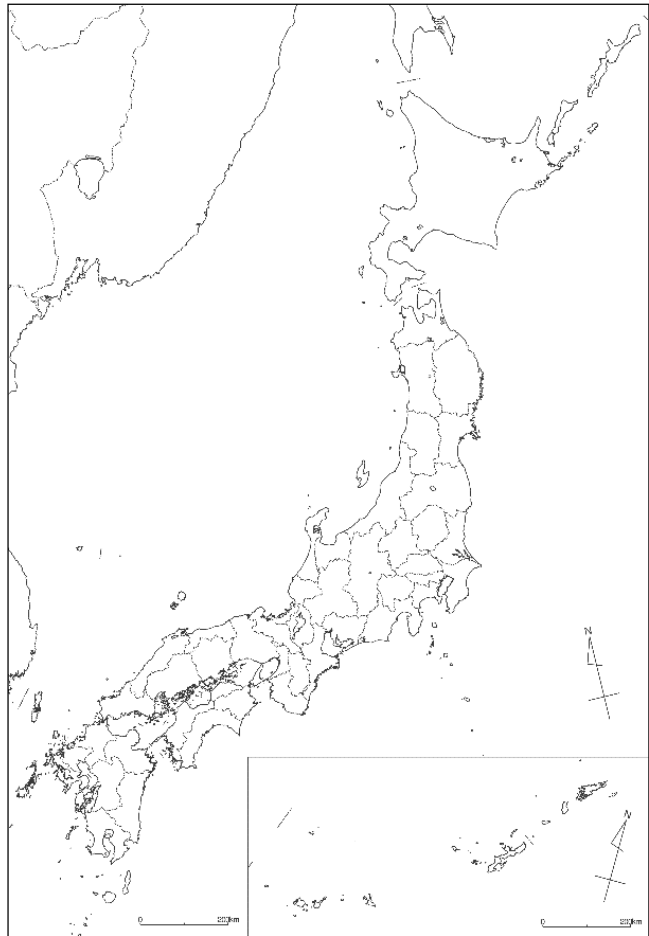


組 番 名前

都道府県名

都道府県の位置（色をぬろう）



都道府県庁所在地

調べる都道府県のデータ  
(人口・花・木・鳥など)

日本一のもの

テーマを決めて、都道府県の特徴を調べよう。(地形・産業・文化・歴史・特産物など)

キャッチフレーズをつくってみよう。

1 教科書p8を見て、六つの大陸と三つの海洋の名前を調べましょう。

○ 六つの大陸の名前


○ 三つの海洋の名前

--	--	--

2 六つの大陸や三つの海洋と、日本の位置関係を説明しましょう。

(例：日本はユーラシア大陸の東にある。)

--

--

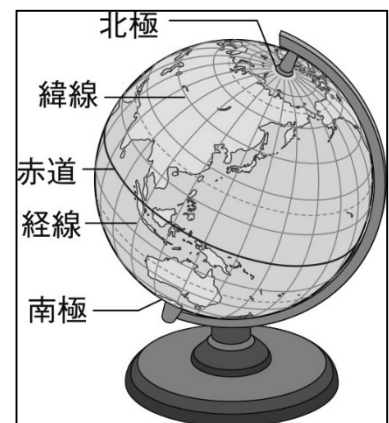
3 右の地球儀を見て、たてと横の線の名前を調べましょう。

○ たての線

--

○ 横の線

--



4 教科書p8～p9を見て、興味をもったり調べたりしたいことをまとめましょう。

--

組 番 名前

①国の名前と、知っていること、調べたことをまとめましょう。②地図帳で国の位置を調べて、線でむすぼう。

国名 \_\_\_\_\_  
.....  
.....  
.....

国名 \_\_\_\_\_  
.....  
.....  
.....

国名 \_\_\_\_\_  
.....  
.....  
.....

国名 \_\_\_\_\_  
.....  
.....  
.....

国名 \_\_\_\_\_  
.....  
.....  
.....

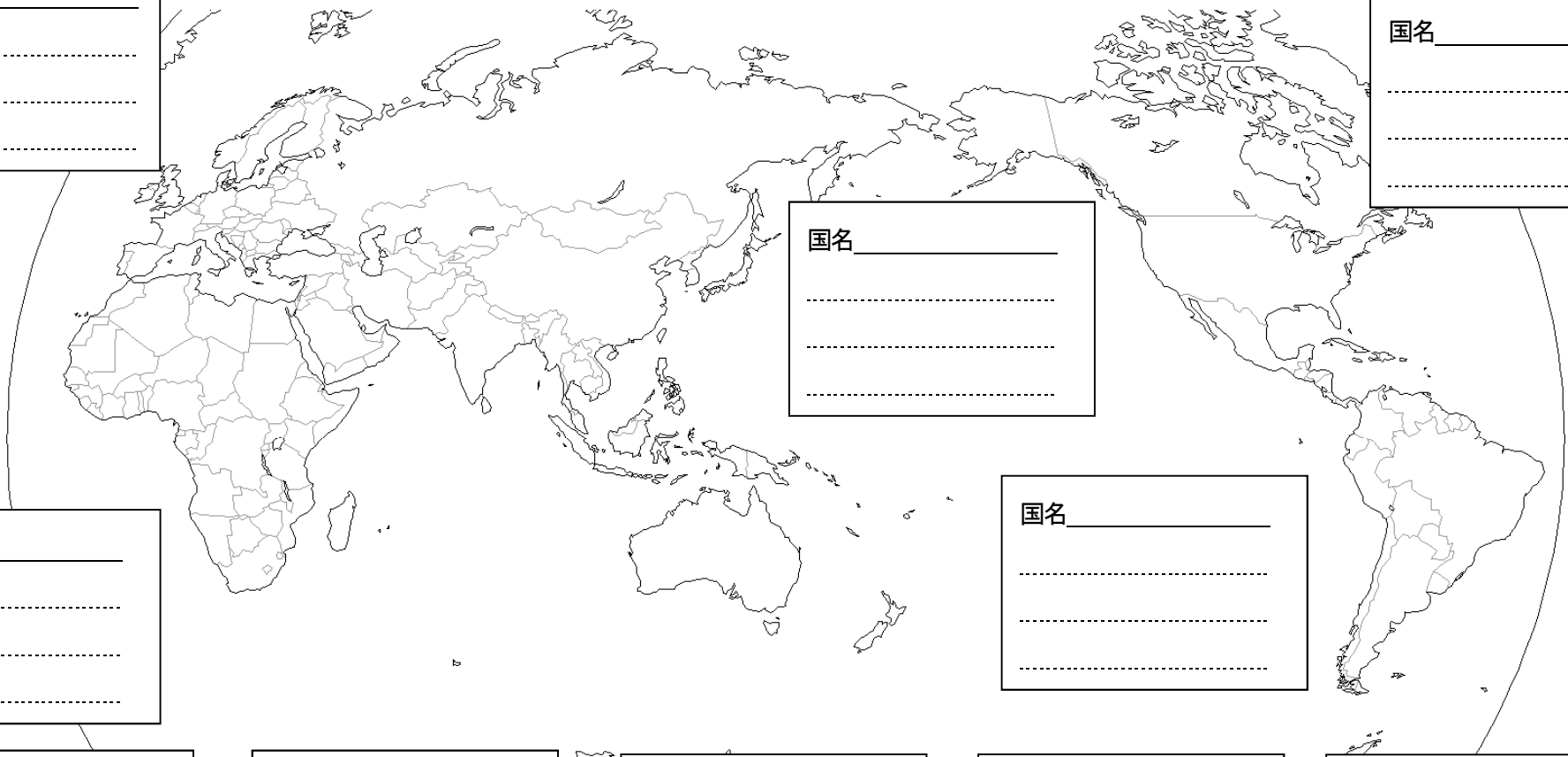
国名 \_\_\_\_\_  
.....  
.....  
.....

国名 \_\_\_\_\_  
.....  
.....  
.....

国名 \_\_\_\_\_  
.....  
.....  
.....

国名 \_\_\_\_\_  
.....  
.....  
.....

国名 \_\_\_\_\_  
.....  
.....  
.....



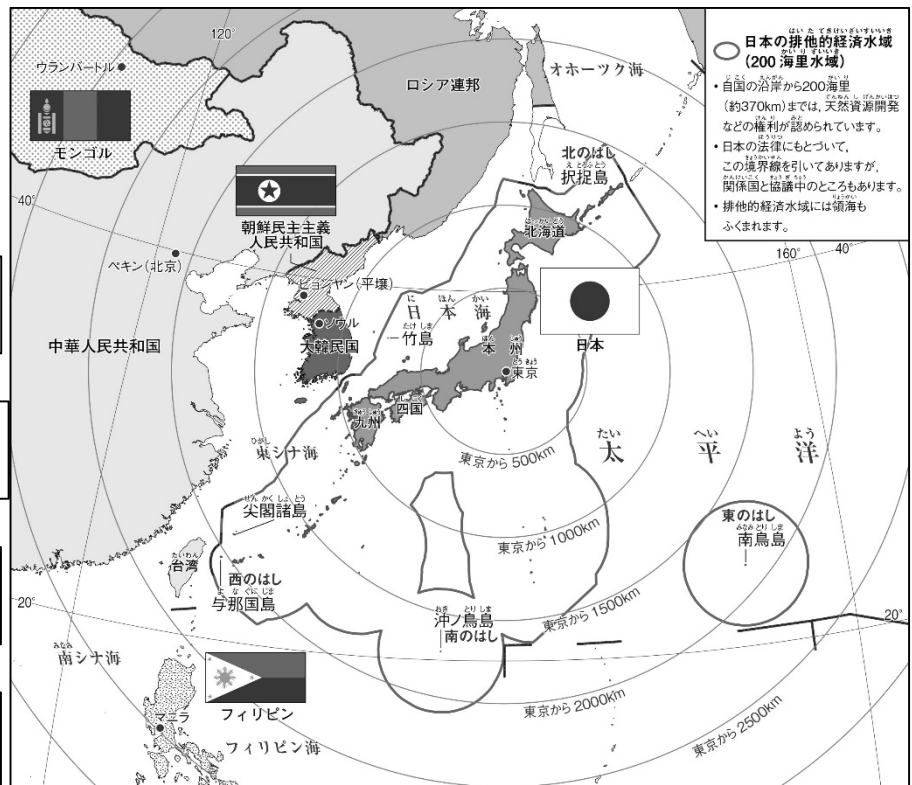
1 教科書 p12~p13  
を見て、日本の東西南  
北のはしにある島の名  
前を調べましょう。

○ 東のはしにある島

○ 西のはしにある島

○ 南のはしにある島

○ 北のはしにある島



2 1で調べた島を、地図上で印(○)をつけましょう。

3 日本は四つの大きな島でなり立っています。その四つの島の名前を調べましょう。





4 日本のまわりにある海の名前を調べましょう。

5 日本の排他的経済水域(200海里水域)を赤色で示しましょう。

6 日本のまわりにある国を調べましょう。  
(できるだけたくさん調べましょう。)

- 1 教科書 p14～p15を見て、領土の意味を調べましょう。

- 2 北方領土について調べたことをまとめましょう。

- 3 竹島について調べたことをまとめましょう。

- 4 尖閣諸島について調べたことをまとめましょう。

- 5 北方領土、竹島、尖閣諸島の位置を地図帳で確認しましょう。

- 6 教科書 p15の表を参考に、日本の国土の特色についてまとめましょう。

組 番 名前

○ 次の表にしめした山地、平野、川などの場所を、下の白地図に書きこみましょう。

- |       |       |       |        |       |
|-------|-------|-------|--------|-------|
| ・日高山脈 | ・奥羽山脈 | ・北上高地 | ・阿武隈高地 | ・関東山地 |
| ・赤石山脈 | ・飛騨山脈 | ・木曾山脈 | ・紀伊山地  | ・中国山地 |
| ・四国山地 | ・九州山地 | ・根釧台地 | ・十勝平野  | ・石狩平野 |
| ・越後平野 | ・関東平野 | ・濃尾平野 | ・大阪平野  | ・筑紫平野 |
| ・宮崎平野 | ・十勝川  | ・石狩川  | ・北上川   | ・最上川  |
| ・信濃川  | ・利根川  | ・天竜川  | ・木曾川   | ・淀川   |
| ・吉野川  | ・四万十川 | ・筑後川  | ・琵琶湖   |       |

