

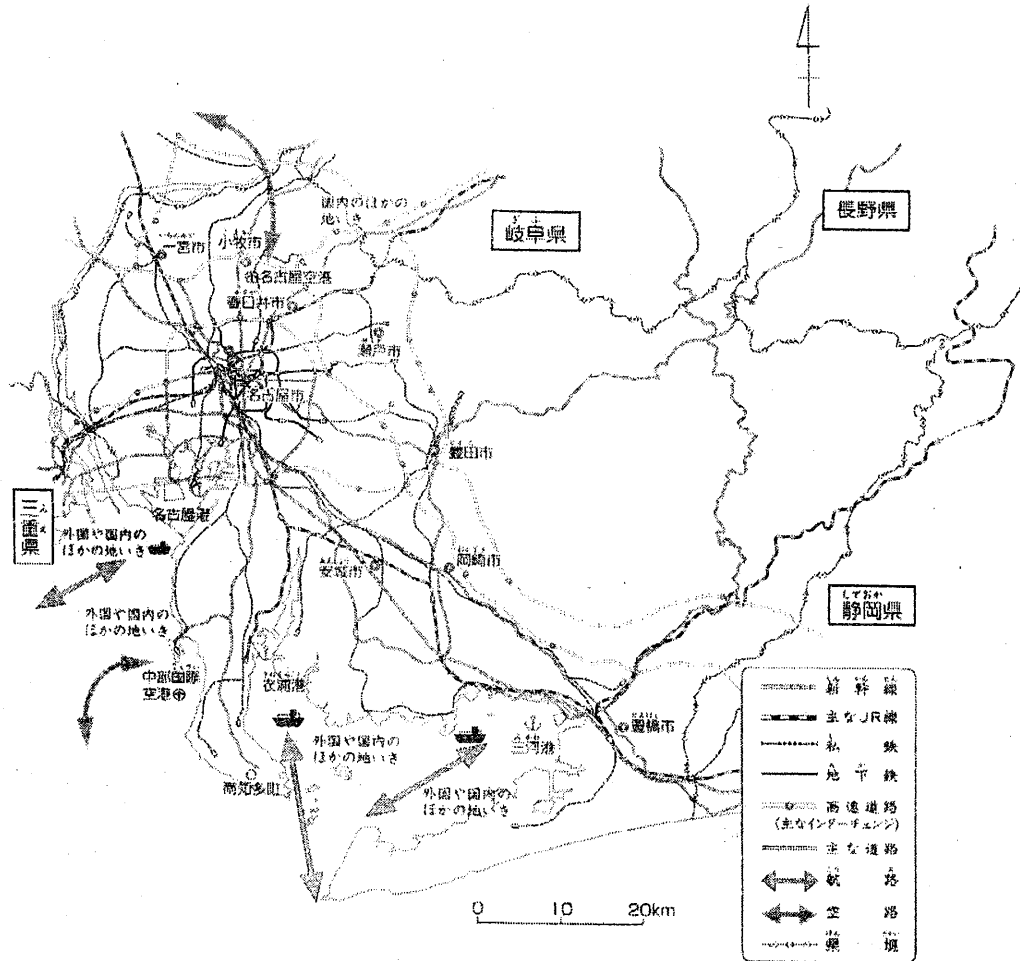
このプリントは、わたしたちのきょうと4年上14・15ページをもとに作成しています。

学習プリント〈社会4年〉No.7 月 日

〈めあて〉

愛知県の道路や鉄道などの交通は、どのように広がっているか調べよう。

【愛知県の主な交通】



- ① 【愛知県の主な交通】を見て、主な道路や鉄道をたどったり、学習プリントNo4の【愛知県の地形図】と見くらべたりして気づいたことを書きましょう。

【アドバイス】名古屋市から出発して、たどった先が、さらにどこへつながっていくか地図帳で調べてみよう。

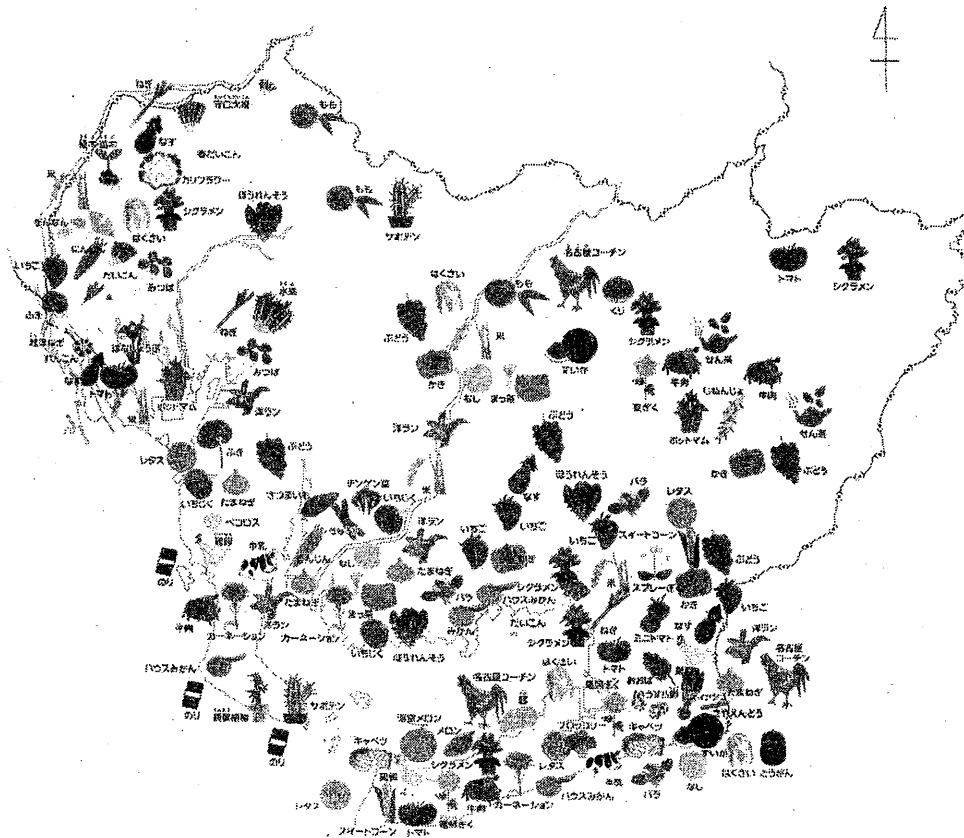
- ② 【愛知県の主な交通】を見て、港や空港、航路や空路について、気づいたことを書きましょう。

【アドバイス】港や空港を○でかこってみよう。航路や空路はどこへつながっているのかたしかめよう。

〈めあて〉

愛知県では、地形の特色を生かして、どこで、どのようなう林水さん物がつくられているか調べよう。

【愛知県の農林水産物地図】



このプリントは、わたしたちのきょうと4年上16・17ページをもとに作成しています。

① 【愛知県の農林水産物地図】を見て、気づいたことを書きましょう。

【アドバイス】

どこで、どのようなう林水さん物が
多くつくられているか見てみよう。
地図帳P53, 54でも調べてみよう。

② 【愛知県の農林水産物地図】と、学習プリント No.4【愛知県の地形図】とを見くらべて、気づいたことを書きましょう。

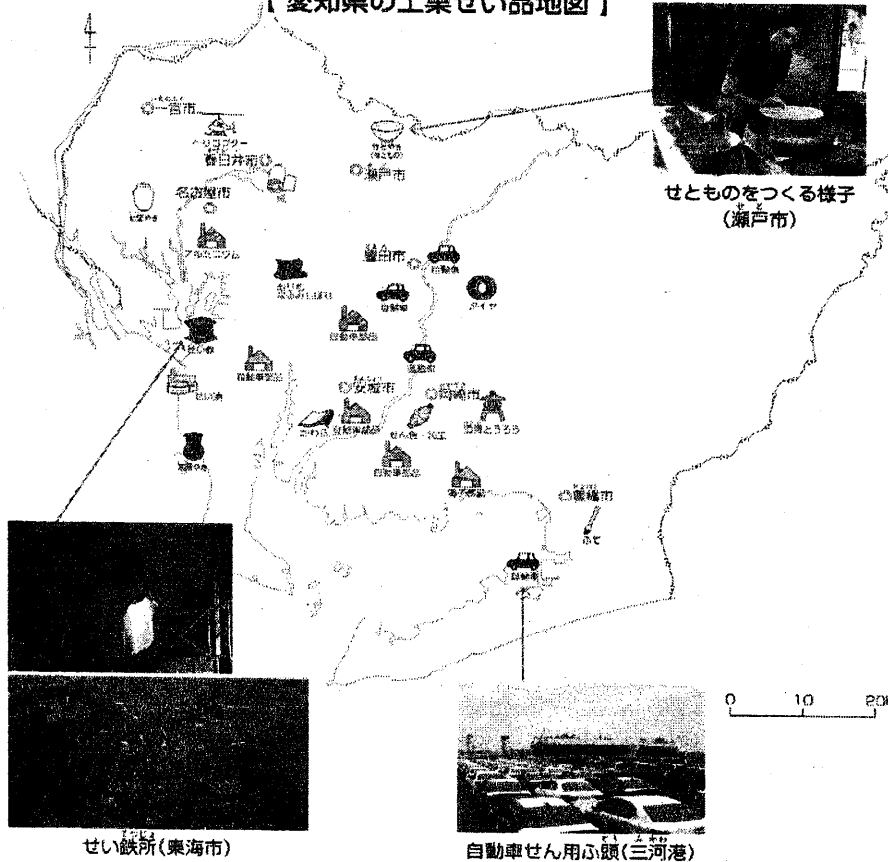
【アドバイス】

土地の低いところと高いところのちがいを考えよう。
「知多半島」や「あつ美半島」などの名前も使って書いてみよう。

〈めあて〉

愛知県では、どこで、どのような工業せい品がつくられているのか調べよう。

【愛知県の工業せい品地図】



このプリントは、わたしたちのきょうど4年上18・19ページをもとに作成しています。

① 【愛知県の工業せい品地図】を見て、気づいたことを書きましょう。

【アドバイス】
 どこで、どのような工業せい品が多くつくられているか見てみよう。
 「東」「西」「北」「南」の方位を表す言葉も使って書いてみよう。

② 【愛知県の工業せい品地図】と、学習プリント No.4【愛知県の地形図】とを見比べて、気づいたことを書きましょう。

【アドバイス】
 土地の低いところと高いところのちがいを考えてみよう。

③ 【愛知県の工業せい品地図】と、学習プリント No.7【愛知県の主な交通】とを見比べて、気づいたことを書きましょう。

【アドバイス】
 どんなところに工場が多くあるか、交通との関係から考えてみよう。

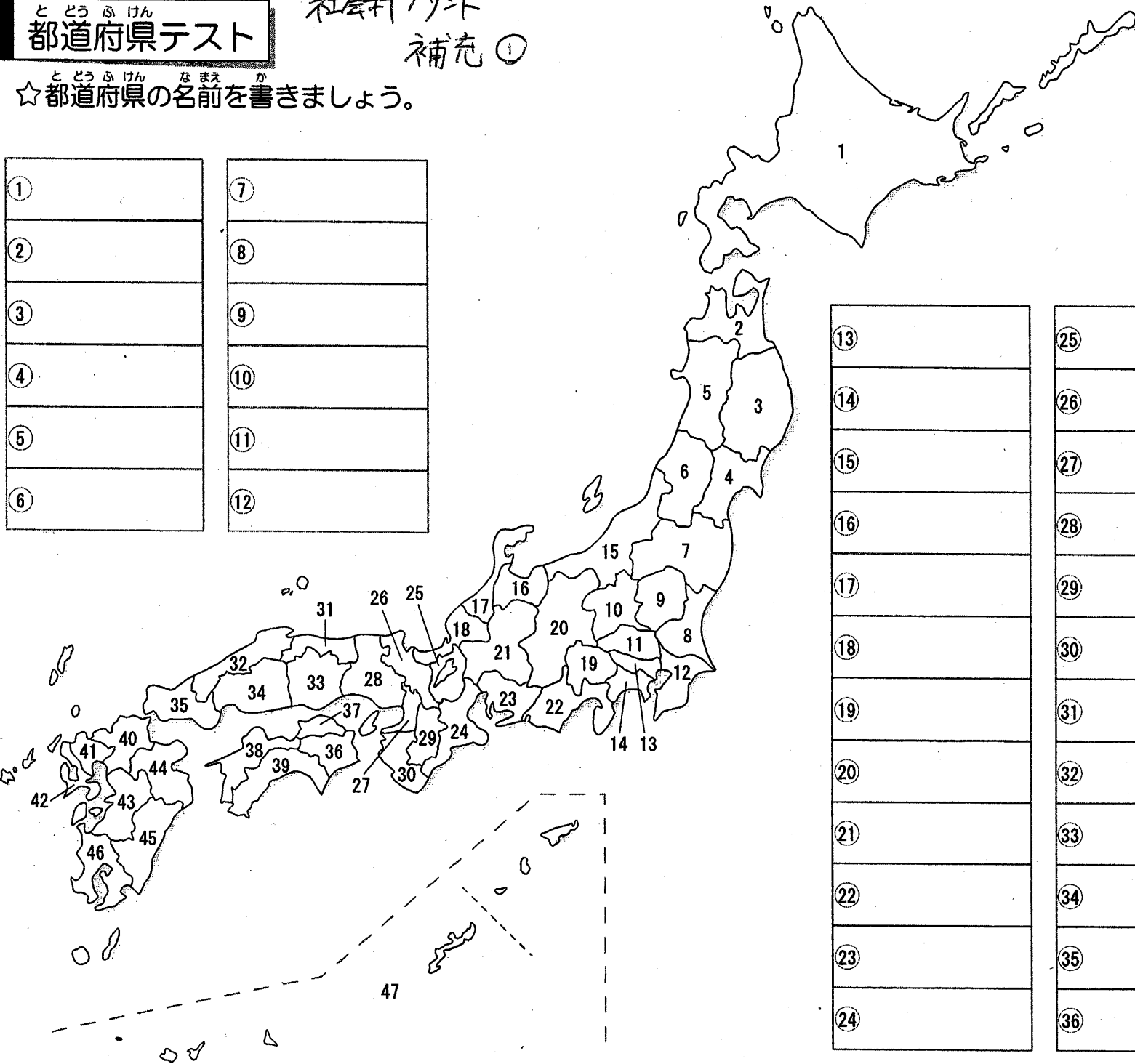
と どう ぶ けん
都道府県テスト

社会科プリント
補充 ①

と どう ぶ けん な ま え か
☆都道府県の名前を書きましょう。

①
②
③
④
⑤
⑥

⑦
⑧
⑨
⑩
⑪
⑫



⑬
⑭
⑮
⑯
⑰
⑱
⑲
⑳
㉑
㉒
㉓
㉔

㉕
㉖
㉗
㉘
㉙
㉚
㉛
㉜
㉝
㉞
㉟

㊳
㊴
㊵
㊶
㊷
㊸
㊹
㊺
㊻
㊼
㊽