

月 日 () 名まえ

1 きょうかしよ20ページの絵を見て時こくをかきましょう。

学校がはじまる時こくは [] です。

ねる時こくは [] です。

2 次の□にあてはまる数をかきましょう。

こぜん 午前は [] じかん 時間、午後は [] 時間です。

1日は [] 時間です。

3 きょうかしよ21ページ [2] のもんだいのこたえをおうちの方に
いましょう。

4 きょうかしよ21ページ [3] のもんだいのれいを見て、
おうちの方にいろいろな時こくや時間をいましょう。

月 _____ 日 (_____) なまえ _____

1 □に あてはまる 数を かきましよう。

① 1時間 = □ 分

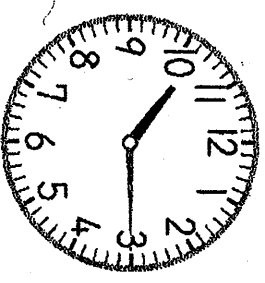
② 1日 = □ 時間

③ 午前は □ 時間, 午後は □ 時間

2 いま 午前10時15分です。つぎの 時こくを かきましよう。

① 30分前は □ です。

② 30分あとは □ です。

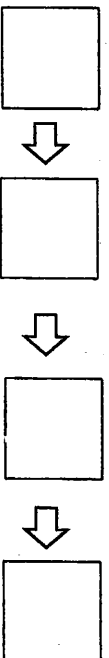


3 はるかさんは どうぶつ園に行きました。

右の絵を 見て、はるかさんが


まわった ジュンに ①～⑤の

きごうを かきましよう。



4 時こくと 時間について わかった

ことを おうちの 人に いましよう。



月 () 日 () なまえ

1 きょうかしよ24ページの もんだいを こえに 出して よみましょう。

2 そうたさんの ^{いろがみ}色紙を もとめる しきと こたえを かきましょう。

しき まい

3 あおいさんの 色紙を もとめる しきを かきましょう。

しき = ?

4 **17+3**の ^{けいさん}計算の しかたを かんがえます。

きょうかしよ25ページを 見ながら、□に あてはまる数を かきましょう。

10のまとまりが こ、1のばらが こあります。
 に 3を たして10。10と で です。

5 つぎの 計算を しましょう。

- ① $18 + 2 =$
- ② $11 + 9 =$
- ③ $14 + 6 =$
- ④ $13 + 7 =$

月 _____ 日 (_____) なまえ _____

1 $36 + 4$ の計算のしかたをかんがえます。□にあてはまる数を

かきましょう。

$36 + 4 =$

2 つぎの計算をしましょう。

① $26 + 4 =$

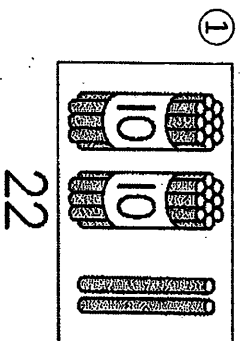
② $52 + 8 =$

③ $63 + 7 =$

④ $75 + 5 =$

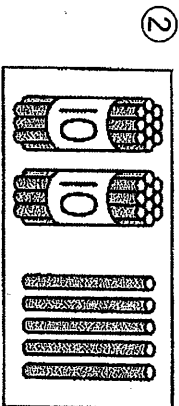
3 つぎの数にいくつたすと30になりますか。

下の□にこたえの数をかきましょう。



に

をたすと30になります。



25

に

をたすと30になります。


月 日 () 名まえ

1 きょうかしよ26ページ のもんだいをよみ、しきを かきましよう。

しき = ?

2 の けいさん 計算のしかたを かんがえます。□に あてはまる かず 数を

かきましよう。



20にするには、あと を
たせば いいです。

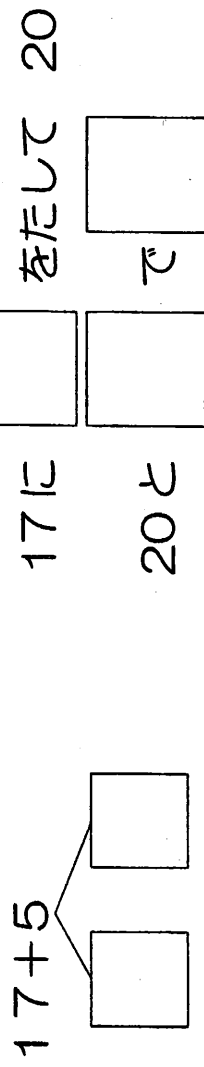
4を と に わ 分けます。

17に をたして です。

20と で です。

3 $17+5$ の 計算の しかたを かんがえます。□に あてはまる 数を

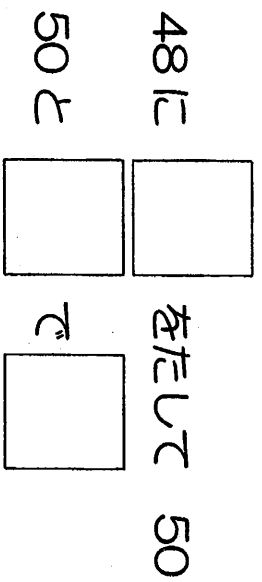
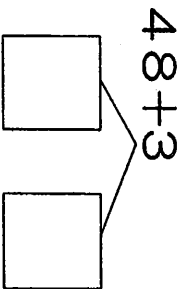
かきましよう。



月 _____ 日 (_____) なまえ _____

1 きょうかしょ27ページを 見て、**38+3**の 計算けいさんの しかたを 声に出して 言って みましょう。

2 48+3の 計算のしかたを かんがえます。□にあてはまる数かずを かきましよう。



4 つぎの 計算を しましよう。

① 38+4 =

② 74+9 =

③ 56+8 =

④ 25+7 =

月 () 日 () なまえ

1 きょうかしよ28ページの もんだいを こえに出して よみましょう。

2 そうたさんの いろがみ色紙を もとめる しきと こたえを かきましょう。

しき

まい

3 あおいさんの 色紙を もとめる しきを かきましょう。

しき = ?

4 20-8の けいさん計算の しかたを かんがえます。

きょうかしよ29ページを 見ながら、□に あてはまる数を かきま
しょう。

10のまとまりが こあります。10から を

ひいて 。10と で です。

5 つぎの 計算を しましょう。

① $20 - 5 =$

② $20 - 6 =$

③ $20 - 7 =$

④ $20 - 1 =$

月 _____ 日 (_____) なまえ _____

1 $30-6$ の計算のしかたをかんがえます。□にあてはまる

数を かきましよう。

$$30-6=$$

2 つぎの計算をしましよう。

① $60-6=$

② $70-1=$

③ $50-3=$

④ $90-8=$

3 つぎの計算をしましよう。

① $40-1=$

② $40-2=$

③ $40-3=$

④ $40-4=$

⑤ $40-5=$

⑥ $40-6=$

⑦ $40-7=$

⑧ $40-8=$

⑨ $40-9=$

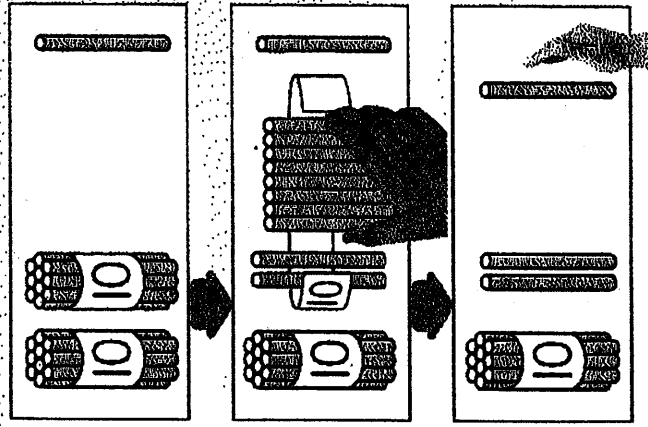
月 日 () 日 なまえ

1 きょうかしよ30ページ のもんだいを よみ、しきを かきましよう。

しき = ?

2 の けいさん計算のしかたを かずかんがえます。□に かずあてはまる かず数を

かきましよう。



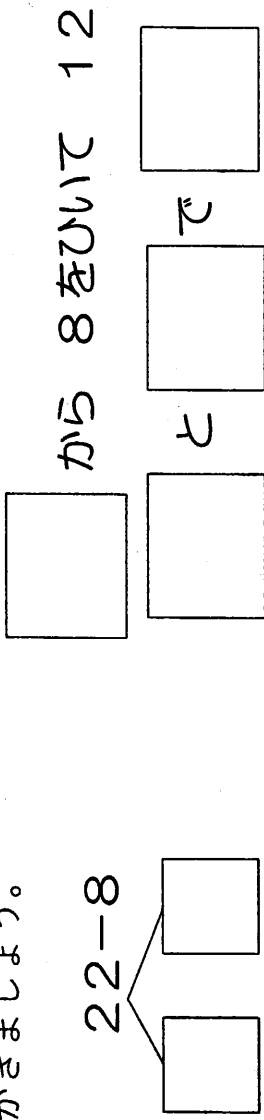
21を と に 分けます。

20から をひいて です。

12と で です。

3 22-8の計算のしかたを かずかんがえます。□に かずあてはまる かず数を

かきましよう。



月 _____ 日 (_____) なまえ _____

1 きょうかしよ31ページを見て、 $42-9$ の計算けいさんのしかたを
声に出して 言って みましょう。

2 $52-9$ の計算のしかたをかんがえます。□に あてはまる

数を かきましよう。

$52-9$

□ から 9をひいて 41

□ と □ で □

□ □

4 つぎの計算を しましよう。

① $42-8=$

② $81-4=$

③ $75-6=$

④ $63-7=$

月 日 () 年 月 日

1 □にあてはまる数をかきましよう。

① $16 + 5$

□ □

16に4をたして □

□ と1で □

$16 + 5 =$ □

② $23 - 8$

□ □

20から8をひいて □

□ と3で □

$23 - 8 =$ □

2 つぎの計算をしましよう。

- | | | | |
|--------------|---|--------------|---|
| ① $12 + 8 =$ | □ | ② $43 + 7 =$ | □ |
| ③ $14 + 9 =$ | □ | ④ $89 + 6 =$ | □ |
| ⑤ $20 - 4 =$ | □ | ⑥ $80 - 5 =$ | □ |
| ⑦ $27 - 9 =$ | □ | ⑧ $92 - 7 =$ | □ |

月 _____ 日 (_____) 名まえ _____

1 カードを 44まい もって います。8まい もらうと 何なんまいに なりますか。しきと こたえを かきましよう。

しき

まい

2 あめを 33こ もって います。6こ 食たべると 何こに なりますか。

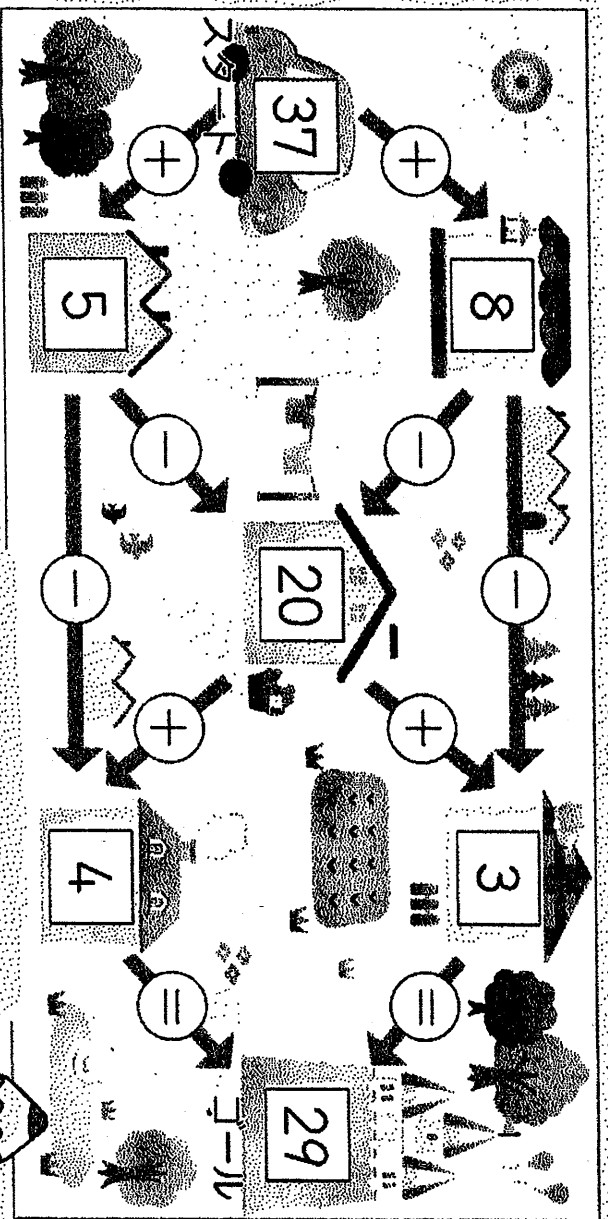
しきと こたえを かきましよう。

しき

こ

3 37から ⇨のむきに たしたり ひいたり して すすみませす。

29まで 行いく 道みちを みつけましよう。



計算めいるの もんだいを つくって みましよう。

