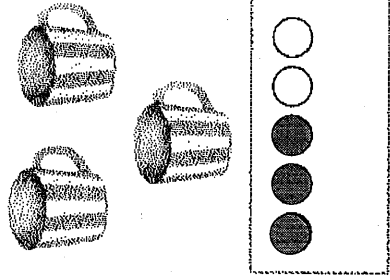


かずと すうじ 5までのかず

がつ 月 () 日にち 日 () なまえ

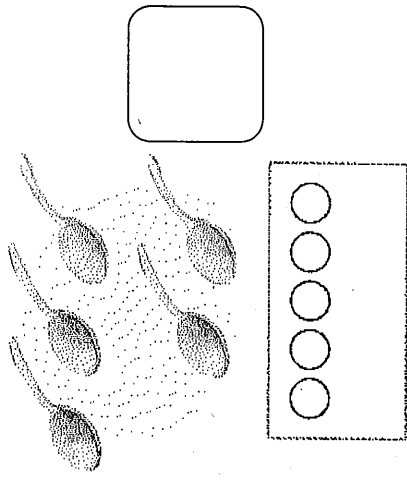
それぞれ いくつ ありますか。しかくに すうじを かきましよう。
かずだけ いろを ぬりましよう。

(れい)

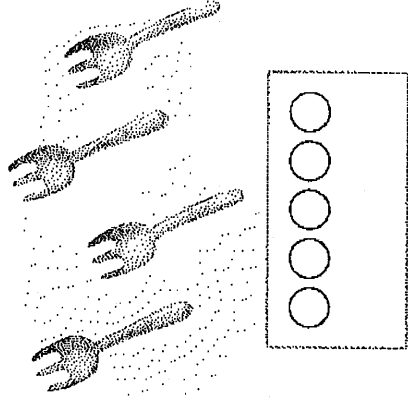


3

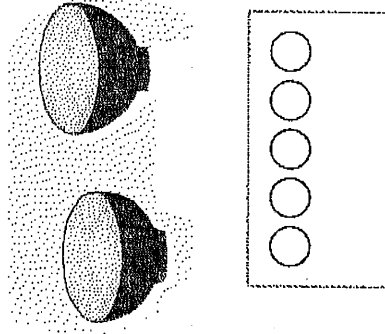
①



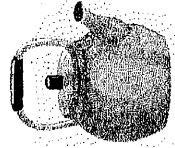
②



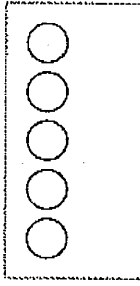
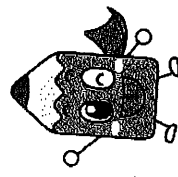
③



④




よく
がんばったね!




かずと すうじ

がっ 月 日 () なまえ

4 このふうせんで 2つに わけます。しかくには いくつの ふうせん
が はいるでしょう。

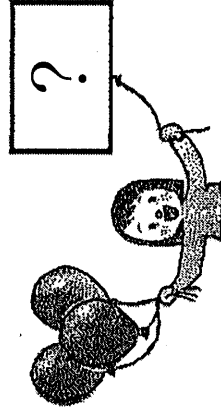


①



2 と

②




3 と

※おうちのひとと いっしょに べんきょうしましょう。

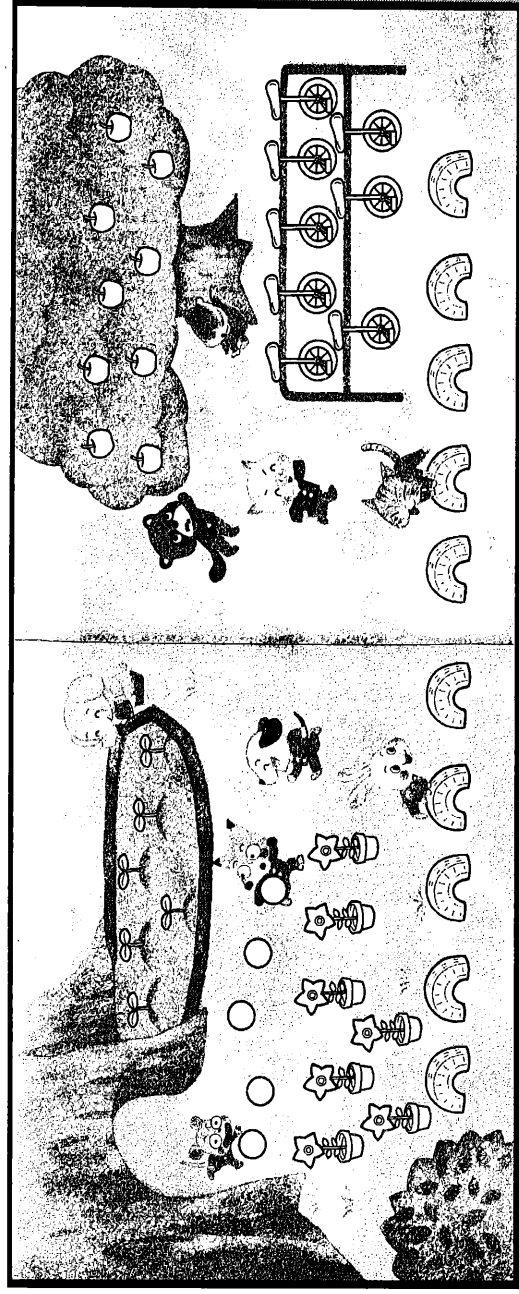
「いくつといくつゲーム」を しましょう。

<ゲームの しかた>

- ① 5この おはじき (1えんだま などでも いいで
す。) を ようい します。
- ② かたほうの てに すきな かずを もって みせます。
- ③ もうかたほうの てには いくつ はいっているかを
かんがえ させます。




かずと すうじ 10までのかず
がつ 月 () 日 () なまえ




1 きょうかしよ 12ぺえじと 13ぺえじには みんなが あそんでいます。どんな
ものがありますか。こえに だして いいましよう。

2 ぼおるを ぜんぶ まとめて まるで かこみましよう。

3 ぼおるの かずは ぜんぶで いくつですか。こえに だして いいましよう。

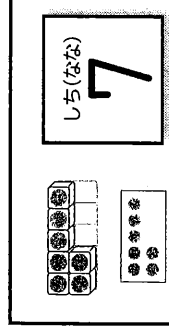
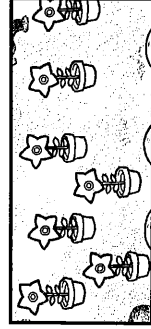
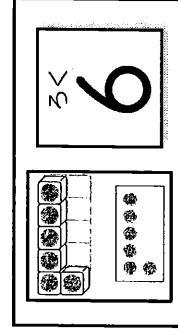
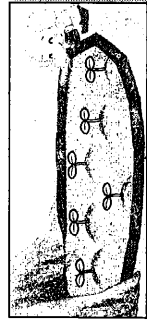

4  ふたばのめ を ぜんぶ まとめて まるで かこみましよう。

5 ふたばのめ の かずは ぜんぶで いくつですか。こえに だして いいましよう。

6  うえきばちの おはなを ぜんぶ まとめて まるで かこみましよう。


7 おはなの かずは ぜんぶで いくつですか。こえに だして いいましよう。

8 えと ぶろっくの かずを せんで むすびましよう。


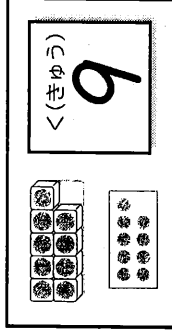
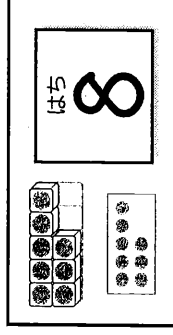

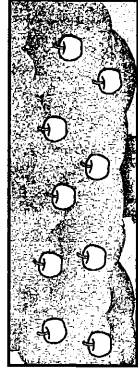
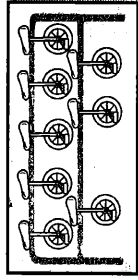


かずと すうじ 10までのかず

がっ につ
月 日 () なまえ



- 1 きょうかしょ 12ぺえじと 13ぺえじの えを みて こたえましょう。
- 2 いちりんしやを ぜんぶ まとめて まるで かこみましょう。
- 3 いちりんしやの かずは ぜんぶで いくつですか。こえに だして いいましょう。
- 4 りんご を ぜんぶ まとめて まるで かこみましょう。
- 5 りんご の かずは ぜんぶで いくつですか。こえに だして いいましょう。
- 6 たいやを ぜんぶ まとめて まるで かこみましょう。
- 7 たいやの かずは ぜんぶで いくつですか。こえに だして いいましょう。
- 8 えと ぶろっくの かずを せんで むずびましょう。



かずと すうじ 10までのかず

がつ 月 () にち 日 () なまえ

1 きょうかしょ 12ぺえじと 13ぺえじに あったもの かずだけ かあどの
しろいまるに いろをぬりましょう。

2 いろをぬった かずの すうじを かきましよう。

6	7	8	9	10					
6	7	8	9	10					

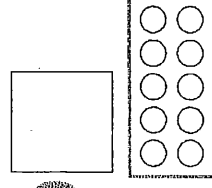
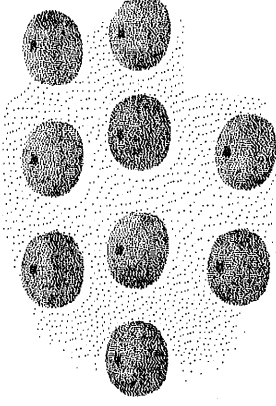
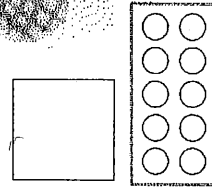

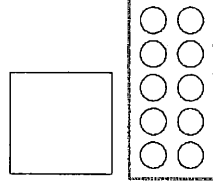

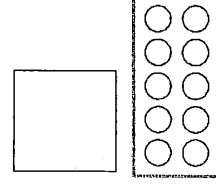
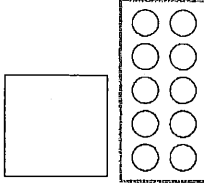
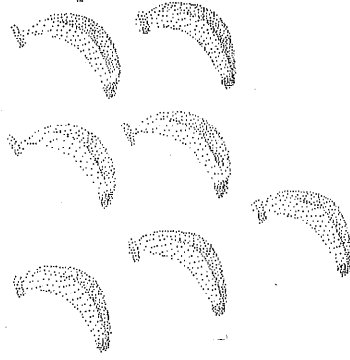
3 ペンぎんが たくさん いますね。ペンぎんの かずを かぞえましよう。
こえに だして いましよう。

	↑		↑		↑	
	↑		↑		↑	

かずと すうじ 10までのかず


がつ 月 () 日にち 日 () なまえ

- 1 それぞれの くだものは、いくつ ありますか? □にすうじで かきましよう。
□にかいた かずだけ しろいまるに いろを ぬりましよう。



- 2 おうちの なかに あるもの の かずを かぞえよう。

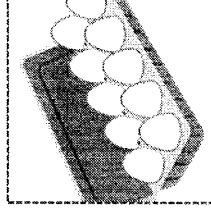
ふでばこのなかのえんぴつ



ランドセル




たまご




ほかにも
さがしてみよう



きょうかしょ



スプーン



すいとろ



テレビ




かずと すうじ 10までのかず
ががつ 月 () 日 () なまえ

くらべよう

※おうちのひとと いっしょに べんきょう しましょう。


- ① おうちのひととおさまと それぞれ すうじの カードを もちます。
- ② 「せえの」で いちまいずつ カードを だします。
- ③ それぞれの すうじを おこさまが よみ どちらの すうじが おおきいか ことえます。



かぞえよう

※おうちのひとと いっしょに べんきょう しましょう。

- ① おうちのひとが てを たたきます。
- ② おとが いくつ なったかを かんがえ カードを えらびます。



プリント NO13 「くらべよう」と「かぞえよう」で使用するカード

1	2	3	4
5	6	7	8
9	10		
1	2	3	4
5	6	7	8
9	10		

なんばんめ


がつ 日 () なまえ

1 きょうかしよ 18ぺえじと 19ぺえじを みて べんきょうしましょう。

どんな どうぶつたちが いますか。こえに だして いいましょう。

2 どうぶつたちは なにを していますか。こえに だして いいましょう。

3 どうぶつたちの かけっこの じゅんばんは どうなったのでしょうか。



きりんは 2ばんめに つきました。

① こぶたは なんばんめに つきましたか。こえに だして いいましょう。


② きつねは なんばんめに つきましたか。こえに だして いいましょう。

③ うさぎは なんばんめに つきましたか。こえに だして いいましょう。

4 5ばんめに いたのは なんの どうぶつですか。こえに だして いいましょう。

5 1ばんめに いたのは なんの どうぶつですか。こえに だして いいましょう。

6 きょうかしよの えを みて こたえましょう。



① は みぎから なんばんめですか。

ばんめ



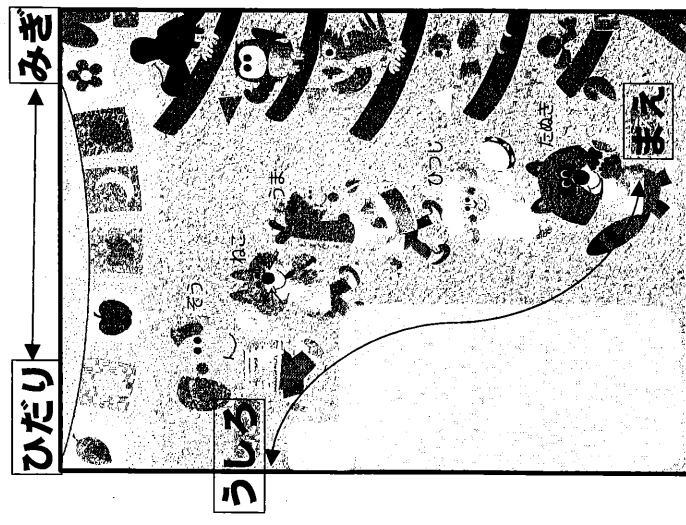
② は うえから なんばんめですか。

ばんめ



③ は まえから なんばんめですか。

ばんめ




なんばんめ

がつ 月 () 日 () なまえ

1 「なんばんめ」と「なんにん」の べんきょうを しましょう。

たちましよう。



① 1れつに ならんで すわります。


まえから 4ばんめの ひとが たち

ます。 たつ ひとを まるで かこみ

ましよう。

「まえから 4ばんめ」は ひとりだけです。

たちましよう。



② 1れつに ならんで すわります。

まえから 4にんの ひとが たちます。

たつ ひとを まるで かこみましよう。

「まえから 4にん」は 4にんぶんです。

2 「まえから」と「うしろから」の ことばを みて いろを ぬりましよう。

まえから
5ばんめ



まえから
5だい



うしろから
3ばんめ



うしろから
4わ



なんばんめ

がつ 月 日 () にち 日 なまえ 名まえ

1 えをみてかながえましょう。 にすうじをかきましょう。



ねこは「なんばんめ」でしょう。



ひだりから




ばんめ

です。



みぎから




ばんめ

です。

2 「ひだりから」と「みぎから」のことばにきをつけて れんしゅう しましょう。


にすうじをかきましょう。

① らいおんは ひだりから なんばんめ ですか。




ばんめ

② らいおんは みぎから なんばんめ ですか。




ばんめ

③ ぞうは ひだりから なんばんめ ですか。




ばんめ

④ ぞうは みぎから なんばんめ ですか。



ばんめ

⑤ こぶたは ひだりから なんばんめ ですか。



ばんめ