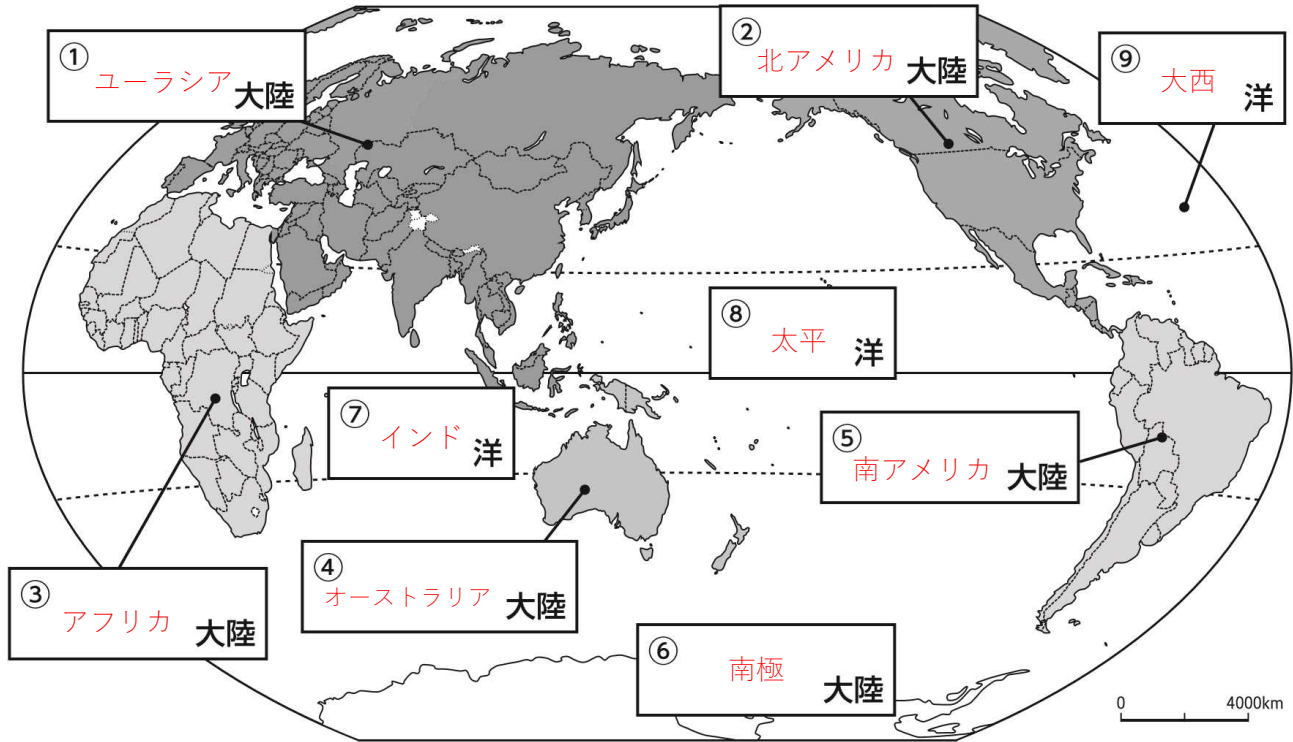
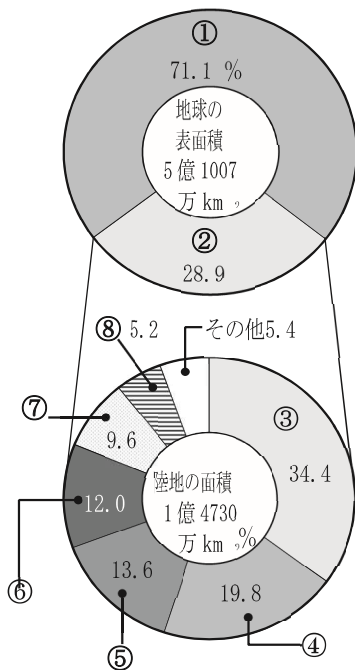


1 教科書P.12～13を読みましょう。そして地図帳を見て次の空らんにあてはまる大陸名と大洋名を書き入れましょう。



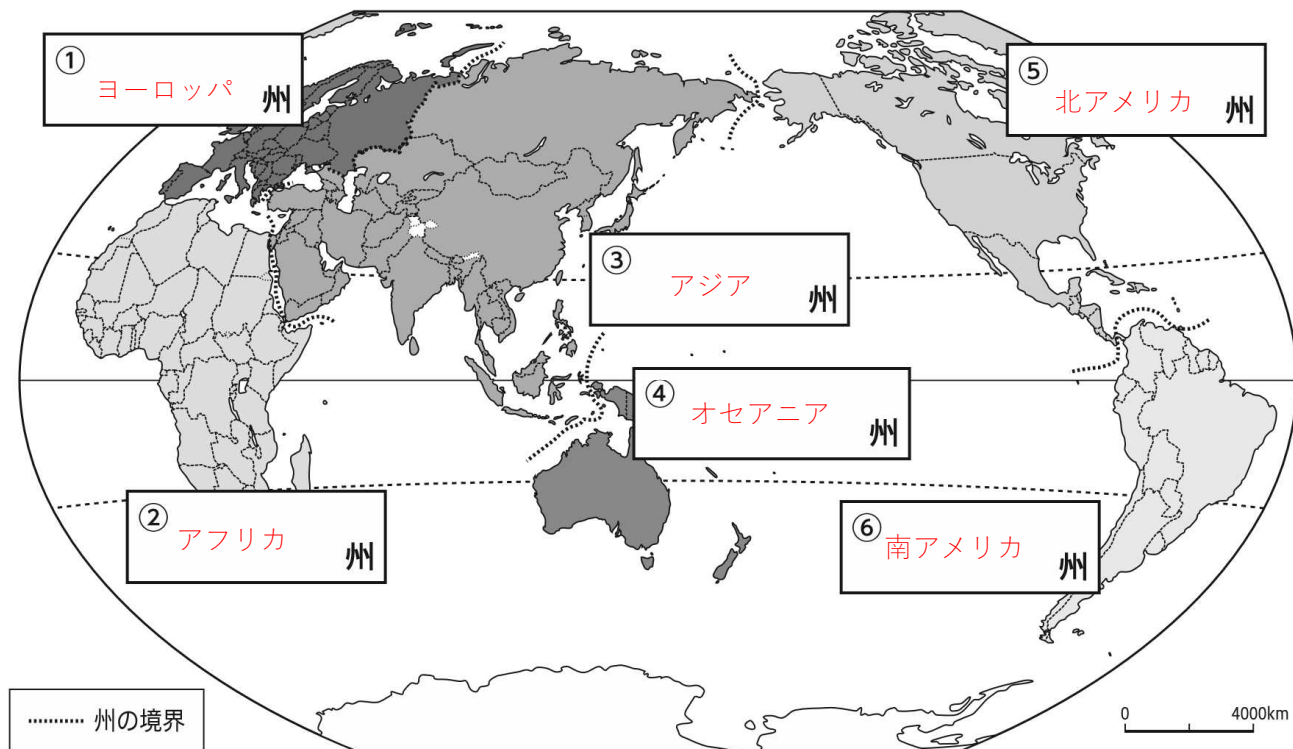
2 次の図は「海洋と陸地の割合」である。①～⑧にあてはまる語句を答えよう。



(「理科年表」より)

①	海 洋
②	陸 地
③	ユーラシア大陸
④	アフリカ大陸
⑤	北アメリカ大陸
⑥	南アメリカ大陸
⑦	南極
⑧	オーストラリア大陸

1 教科書P.11を見て、次の空らんにあてあまる州名を書き入れよう。



2 次のランキング表を、教科書272～273ページなどから調べて記入しよう。

国の面積トップ5		国の人口トップ5	
1位	(ロシア連邦) で (1710) 万 km ²	1位	(中国) で (13億7605) 万人
2位	(アメリカ合衆国) で (983) 万 km ²	2位	(インド) で (13億1105) 万人
3位	(中国) で (960) 万 km ²	3位	(アメリカ合衆国) で (3億2177) 万人
4位	(カナダ) で (909) 万 km ²	4位	(インドネシア) で (2億5756) 万人
5位	(ブラジル) で (852) 万 km ²	5位	(ブラジル) で (2億785) 万人

※面積や人口については、今年度中学校1年生に新たに配付された教科書の資料に基づきます。

解答の訂正日…4月15日

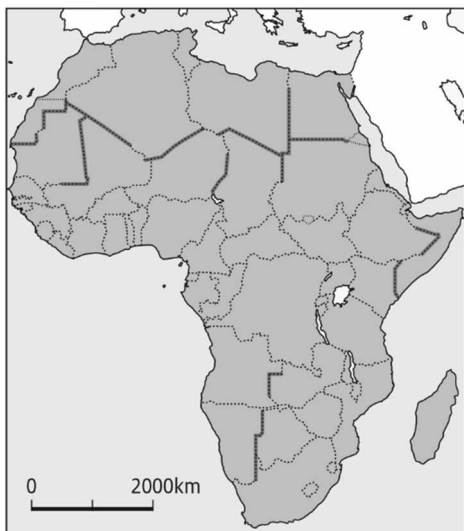
3 「面積が小さい国」、「人口が少ない国」などのランキング表も作ってみよう。

1 教科書P.16を読もう。そして、百科事典やインターネットを使って、イギリス以外の国名の意味と国旗のデザインなどを調べよう。

国名 ()	
国旗のデザイン	意味や由来など
略

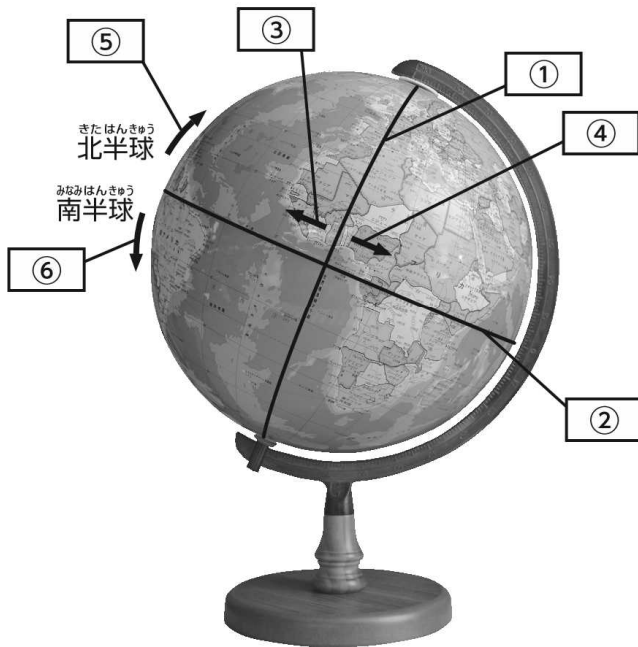
調べた感想	

2 アフリカの国々の国境線について、なぜ直線の国境が多いのか、教科書P.60の資料2を参考に、その理由を調べよう。



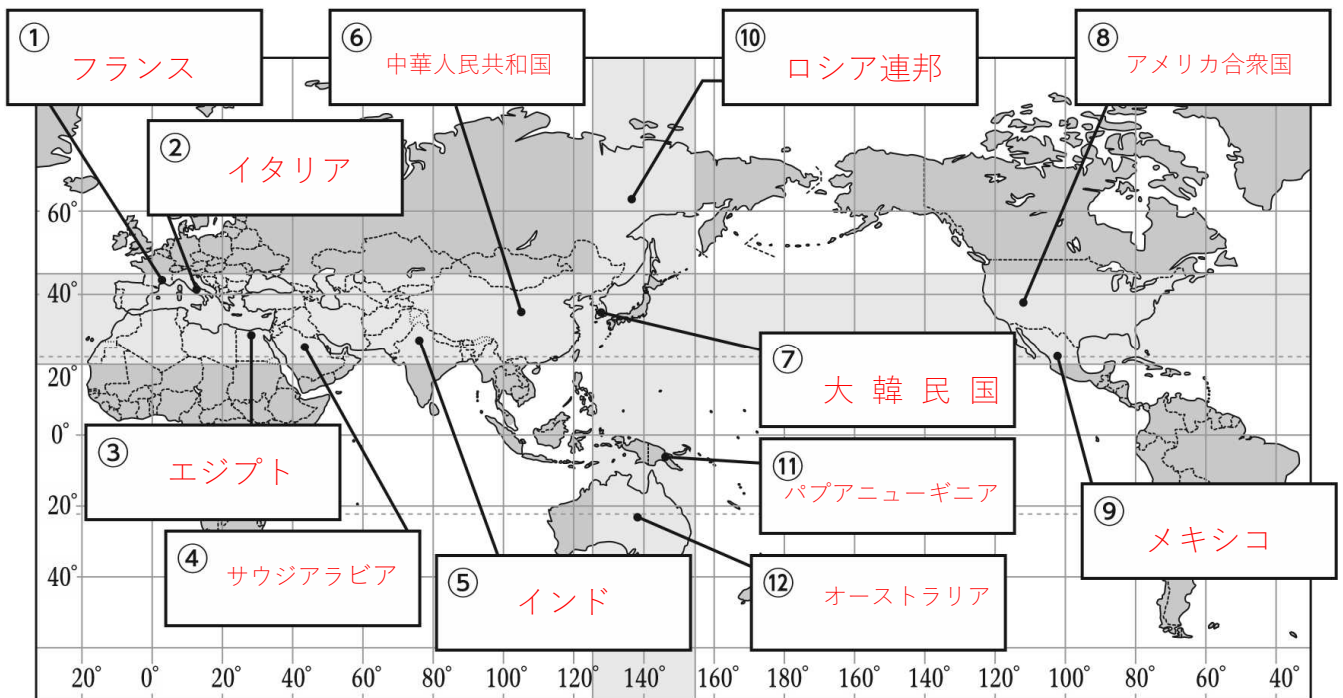
理由
19世紀の末、ヨーロッパ各国は、アフリカのほとんどの地域を植民地として支配した。その植民地の境界線は、地域の住民とは関係なく地図の上で引かれたりしたため。

1 教科書P.18 を読もう。そして、資料①～③を参考に次の①～⑥にあてはまる語句を書き入れよう。



①	本初子午線
②	赤道
③	西経
④	東経
⑤	北緯
⑥	南緯

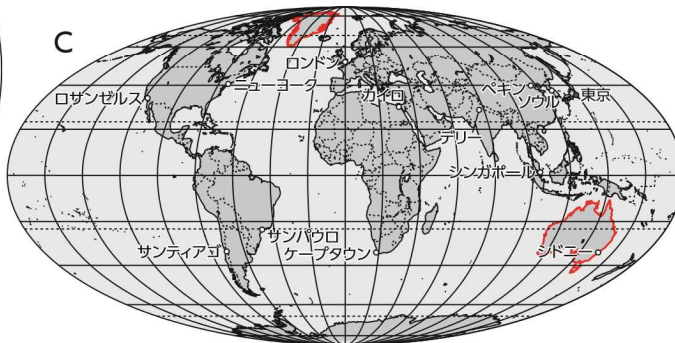
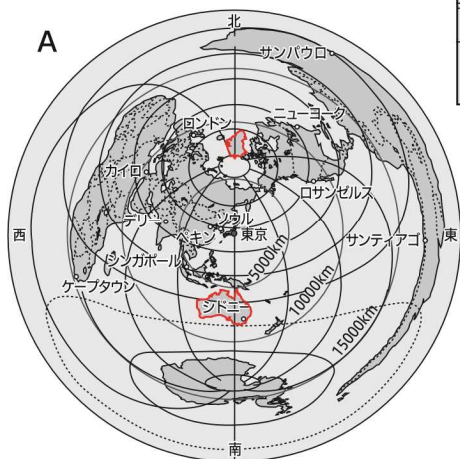
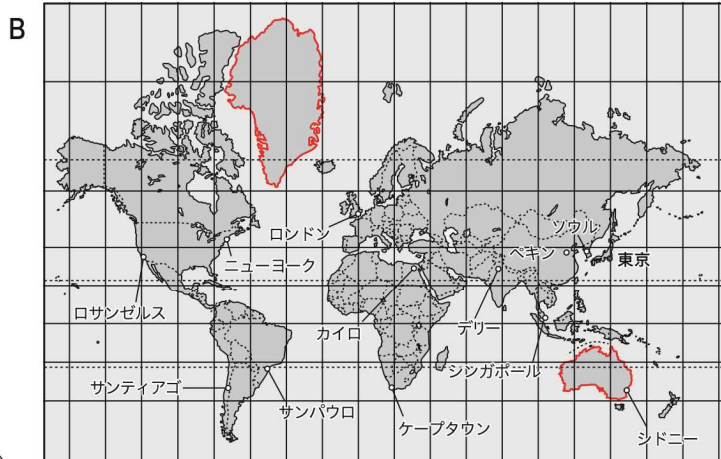
2 地図帳を使って、日本と同じ緯度・経度にある国名を書き入れよう。



1 教科書P.20～21 を読もう。そして、次に示した世界地図A～Cについて、図中のオーストラリアを赤で、グリーンランドを青で着色しよう。



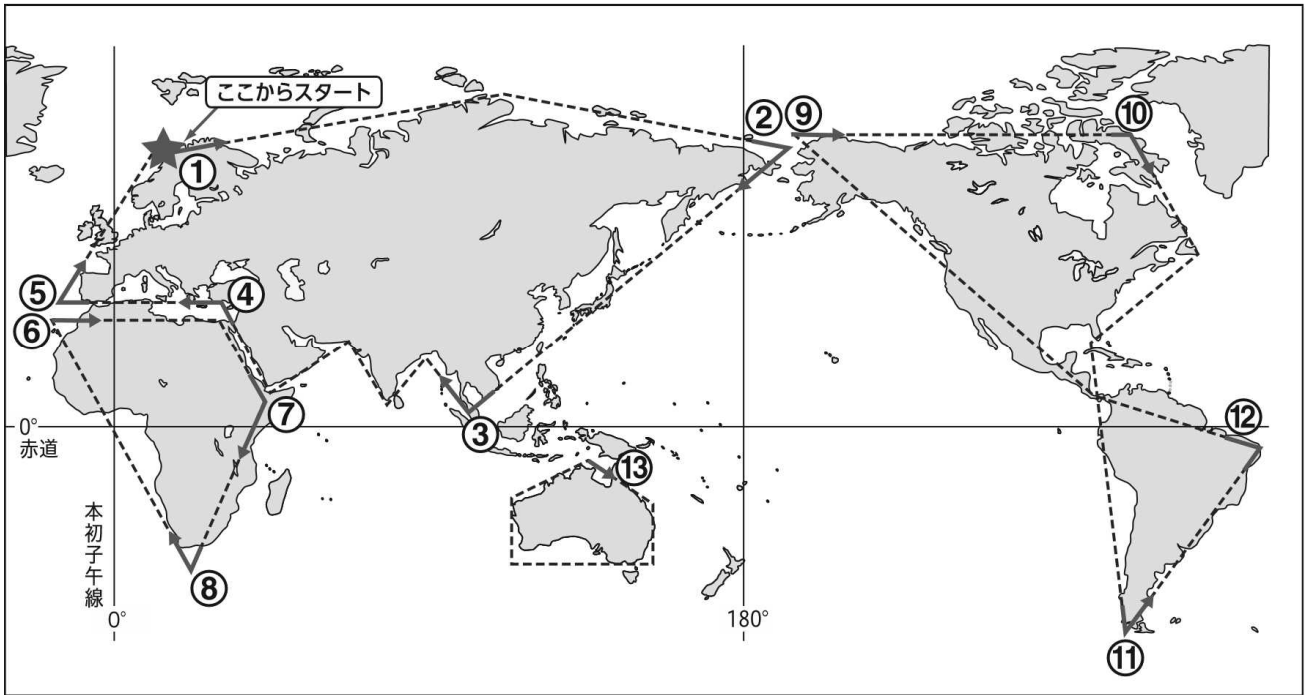
地球儀



2 地球と世界地図A～Cについて、下の表の()にあてはまる語句を記入して特徴をまとめよう。

	地球儀	世界地図A	世界地図B	世界地図C
距離	正しい	(中心)からのみ正しい	正しくない	正しくない
大陸などの形	(正しい)	正しくない	(正しくない)	(赤道)から遠い位置では形のゆがみが大きい
面積	正しい	正しくない	正しくない *(高緯度)に近いほど 実際より拡大する	(正しい)
方位	正しい	(中心)からのみ正しい	正しくない	正しくない

1 ①から順番に⑬まで点線をなぞって略地図を描こう。



2 今度は何も見ないで下の図に描こう。

